

CE2 – Fiche élève n°1

REPÉRAGE, MESURES

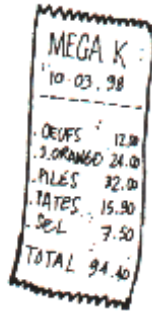
Connaître les principaux domaines des mesures usuelles

Nom:

Prénom:

EXERCICE 1


1– Associe chaque dessin au mot qui convient.



● prix



● masse



● longueur



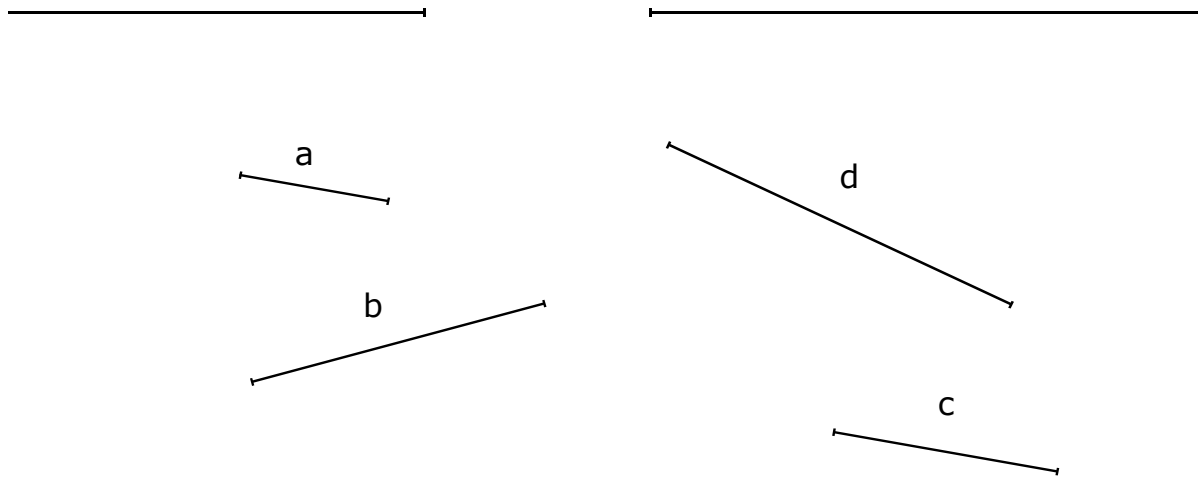
● durée

Nom:

Prénom:

EXERCICE 2

1– En mesurant les segments, trouve celui qui permet de faire exactement le raccord.



C'est le segment


2– Trace un segment de 11 cm.

Nom:

Prénom:

EXERCICE 3

1- *Complète ce dessin de façon à obtenir un carré.*



| | | |
|------------|--------------------------|--------------------|
| CE2 | REPÉRAGE, MESURES | 3 EXERCICES |
|------------|--------------------------|--------------------|

| Exercice | Compétence associée | Modalités |
|-----------------|--|---|
| 1 | Connaître les principaux domaines des mesures usuelles. | - Connaître les unités usuelles. |
| 2 | Mesurer et tracer un segment. | - Mesurer et tracer un segment de longueur donnée. |
| 3 | Construire une figure plane. | - Construire une figure plane: Un carré avec un côté horizontal. |