


Nom:

Prénom:

**EXERCICE 1**

1– Trace la ligne droite qui passe par les points A et E.



2– Entoure la réponse juste:

Les points A, B, D, E, F, sont alignés

OUI      NON

Les points A, C, E, G sont alignés

OUI      NON

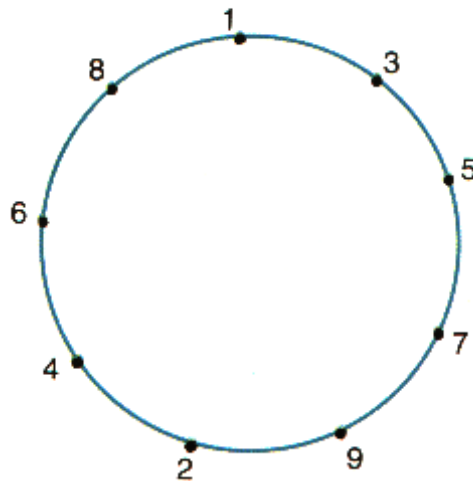
***Nom:***

***Prénom:***

**EXERCICE 2**

*1- Avec ta règle, relie les chiffres dans l'ordre indiqué puis reviens au point de départ:*

1, 2, 3, 4, 5, 6, 7, 8, 9, 1

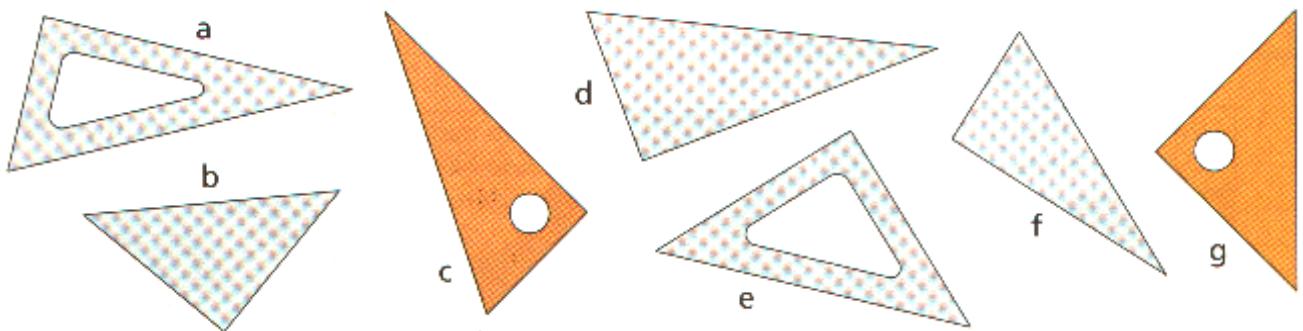


*Nom:*

*Prénom:*

**EXERCICE 3**

1– Voici plusieurs équerres. Sur chacune d’elles, repère l’**angle droit** et marque-le en le coloriant.



2– Plie la feuille de papier pour fabriquer un angle droit.

<b>Exercice</b>	<b>Compétence associée</b>	<b>Modalités</b>
<b>1</b>	<b>Repérer :</b> - Des points alignés.	- Tracer une ligne droite passant par 2 points.
<b>2</b>	<b>Utiliser la règle.</b>	- Relier des points avec la règle, dans l'ordre donné.
<b>3</b>	<b>Utiliser le vocabulaire usuel:</b> - perpendiculaire	- Repérer un angle droit et le marquer. - fabriquer un angle droit par pliage d'une feuille (non rectangulaire)